



כמה דגים יש בשתי הצנצנות? השלימו.



ב

תרגיל:  $3 + 2 = \underline{\quad}$


תשובה:  $\underline{\quad}$  דגים.



א

תרגיל:  $1 + 4 = \underline{\quad}$


תשובה:  $\underline{\quad}$  דגים.



ד

תרגיל:  $\underline{\quad} + \underline{\quad} = \underline{\quad}$


תשובה:  $\underline{\quad}$  דגים.



ג

תרגיל:  $1 + 2 = \underline{\quad}$

תשובה:  $\underline{\quad}$  דגים.



ה

תרגיל:  $\underline{\quad} + \underline{\quad} = \underline{\quad}$

תשובה:  $\underline{\quad}$  דגים.